

**EXERCICE 1**

Reproduire à l'identique les parallélogrammes en utilisant les quadrillages :

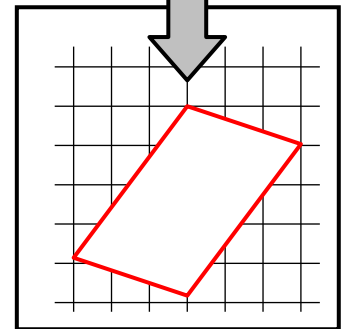
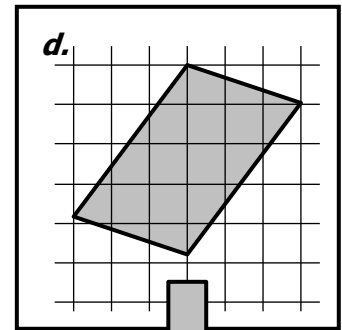
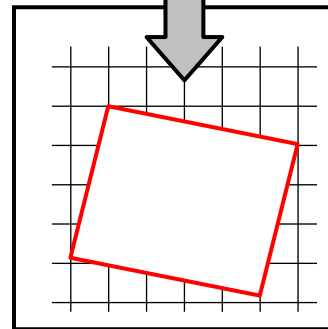
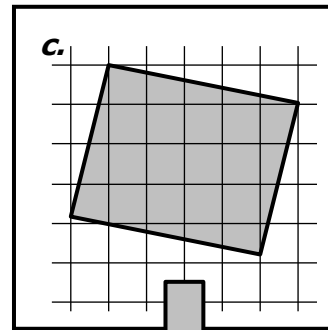
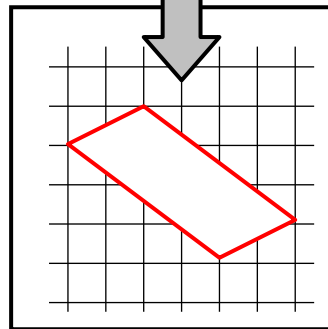
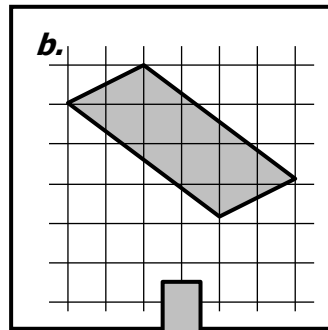
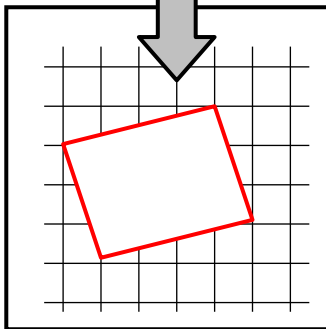
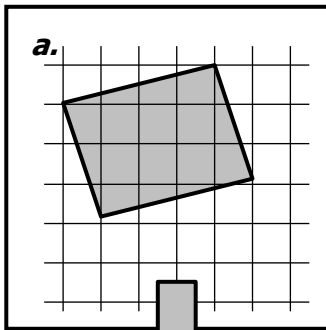
<p><i>a.</i></p>	<p><i>b.</i></p>	<p><i>c.</i></p>	<p><i>d.</i></p>

**EXERCICE 2**

Reproduire à l'identique les parallélogrammes en utilisant les instruments de géométrie :


## CORRIGE - M. QUET

**EXERCICE 1** En utilisant les quadrillages : **Comptez bien les carreaux !**



**EXERCICE 2** Il faut bien mesurer les longueurs des côtés et des diagonales avec le compas avec les longueurs des côtés et les mesures des angles → le rapporteur puis le compas

